


2022.|2023. sezona
OTRĀ ATLASĒS ANKETA


Venta un Irbe

1. Katram ģerbonim pieraksti pilsētas nosaukumu, kā arī organismu, kas tajā attēlots. (12 p)









Izvēlies vienu no šīm pilsētām un atrodi informāciju.

Pilsētas nosaukums _____

Pirmoreiz minēta vēstures avotos _____

legūtas pilsētas tiesības _____

Dabas rajons _____ (piemēram, Valka atrodas Sakalas augstienē)

Augstums virs jūras līmeņa _____

2. Savieno ar Usmas ezeru saistītos nosaukumus (vidējā kolonna) un atbilstošos aprakstus. (20 p)

Moricsalas senākais nosaukums	Amjūdzupe	Līcis ezera ziemeļu daļā
Usmas ezerā ietekoša upe	Bērdraganga	
Engures upe savieno ar Usmas ezeru	Dāsnā usneja	Līcis ezera dienvidu daļā
Pirmais rezervāts Latvijā	Engures upe	
Atrodas iepretim Varžupītes un Kāņupes ietekām	Gludā nekera	Ezera līcis, kas iekļauts Moricsalas rezervātā
Lielākā ezersala Latvijā	Ķīķis	
Atrodas pie Ozoldangas un Lošraga	Lielalksnīte	Zemesrags ezera rietumu daļā
Aptuveni 1,3 km garš šaurums ezerā	Lokanā najāda	
Uz tās bijusi uzbūvēta zušu ķeramā ierīce	Luziķertes līcis	Zemesrags Viskūžu salā
Tuvākais ezers Usmas ezeram	Mazalksnīte	
	Meķgals	Zemesrags Moricsalā
	Moricsala	
	Puzes ezers	Reta, aizsargājama ūdensaugu suga, kas sastopama ezerā
	Saukumrags	
	Sineprags	Reta, aizsargājama sūnu suga, kas sastopama Moricsalā
	Struncene	
	Tirukšezers	Reta, aizsargājama ķērpju suga, kas sastopama Moricsalā
	Usmas kalva	
	Viesuļrags	Īpaši aizsargājama putnu suga, kas sastopama Moricsalā
	Viskūžu sala	

3. Salīdzini Ventu un Irbi. (24 p)

	Venta	Irbe
Pilnais garums		
Baseina platība		
Garākā pieteka		
Upes sākumpunkts		
Tecējuma raksturojums	<ul style="list-style-type: none"> • • 	<ul style="list-style-type: none"> • •
Cilvēka radītās izmaiņas upē	<ul style="list-style-type: none"> • • 	<ul style="list-style-type: none"> • •
Upes saimnieciskā izmantošana	<ul style="list-style-type: none"> • • 	<ul style="list-style-type: none"> • •
Dabas aizsardzības izaicinājumi	<ul style="list-style-type: none"> • • 	<ul style="list-style-type: none"> • •

4. Atzīmē kartē dotos dabas un kultūrvēsturiskos objektus. (12 p)



A Abavas Rumba



B Dundagas pils



C Kabiles muiža



D Kaives Senču ozols



E Kuldīgas senais ķieģeļu
tilts



F Pelču muiža



G Popes muiža



H Reņģes muižas pils



I Skrundas muiža



J Strūklaka "Medus piliens"

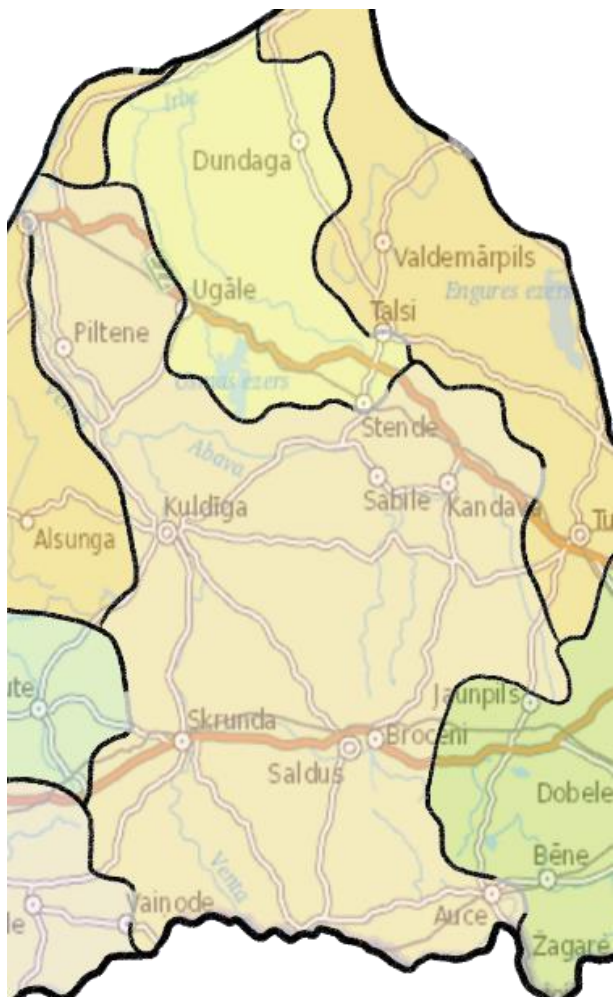


K Usmas luterāņu baznīca



L Ventspils dzelzceļa stacija

Katru objektu kartē atzīmē ar burtu, kas dots pie nosaukuma.



5. Atzīmē pareizo atbildi. (12 p)

1. Kur atrodas vienīgā ērģeļbūves darbnīca Latvijā?

A) Aizputē

B) Dundagā

C) Talsos

D) Ugālē

2. Žograusis ir _____.

A) māzeris

B) tradicionāls lībiešu
ēdiens

C) piepju suga

D) sens karēļu
mūzikas instruments

3. Kādas senas Latvijā izveidotas liellopu šķirnes atjaunošanā piedalās Rīgas Nacionālā zooloģiskā dārza filiāle "Cīruļi"?

A) Hailandes govns

B) Latvijas brūnā

C) Lielragu govns

D) Zilā govns

4. Kura Latvijas selekcionāra radītas vīnogu šķirnes audzē Sables vīna kalnā?

A) J. Rukšāns

B) P. Sukatnieks

C) P. Upītis

D) R. Kondratovičs

5. Miķeļtorņa bāka ir _____ bāka Latvijā.

A) augstākā

B) jaunākā

C) senākā

D) vienīgā koka konstrukcijas

6. Cik liels attālums ir starp vienu no augstākajiem ūdenskritumiem Latvijā (Aleksūpītes ūdenskritumu) un Eiropas platāko dabisko ūdenskritumu?

- A) ~300 m B) ~1,7 km C) ~15 km D) ~185 km

7. Šis skujkoks savvaļā visbiežāk sastopams Kurzemes piekrastē.

- A) Eiropas lapegle B) Parastā īve C) Rietumu tūja D) Zviedrijas kadiķis

8. Ventspilī atrodamas 28 govju skulptūras. Kura no dotajām neiederas starp pārējām?

- A) Govs Brīze B) Govs Ceļotāja C) Govs Matrozis D) Puķu govjs

9. Kurā Latvijas pilsētā atrodas attēlā redzamās gleznas autora vārdā nosaukts muzejs?



- A) Brocēni B) Kabile C) Kandava D) Saldus

10. Piekrastes ciemus agrāk apdzīvoja galvenokārt zvejnieki, viens no tādiem ir Mazirbe, kur atrodas _____.

- A) Laivu kapsēta B) Laivu muzejs C) Tīklu muzejs D) Zvejnieku muzejs

11. Vimbu vērošana pavasarī ir populāra aktivitāte _____.

- A) Kuldīgā B) Sabilē C) Skrundā D) Ventspilī

12. Kurā dabas parkā sastopama krūmu čuža?

- A) Abavas senleja B) Čužu purvs C) Plunču ezera meži D) Stiklu purvi

📍 ATBILŽU IESŪTĪŠANAS TERMIŅŠ NO 14. DECEMBRA LĪDZ 18. JANVĀRIM.

ZIŅAS PAR KOMANDU

Komandas nosaukums: _____

Skola, klase: _____

Komandas kontaktinformācija:

E-pasts: _____

Telefona numurs: _____

IESNIEDZOT ŠO ANKETU, ESMU IEPAZINĪES AR KONKURSA NOLIKUMU!